

Tagespläne für den 20.12. und 21.12.2021 für die Klassen 3a und 3b -
Mathematik

Wochentag	Aufgaben im Unterricht	Materialien & Aufgaben
Montag	<p>Addition und Subtraktion einstelliger zu dreistelligen Zahlen</p> <ul style="list-style-type: none"> - Tägliche Übung zur Multiplikation - Lösen der Aufgaben des Arbeitsblattes zur Addition und Subtraktion - Eigenständiges Vergleichen der Ergebnisse mit Hilfe der Lösungsfelder 	Übungsheft, Arbeitsblatt 1
Dienstag	<p>Übungen zum Addieren und Subtrahieren</p> <ul style="list-style-type: none"> - Tägliche Übung zur Division - Lösen des Arbeitsblattes zur Addition und Subtraktion - Eigenständiges Vergleichen der Ergebnisse mit Hilfe der Lösungsfelder - Zusatzaufgabe: Lösen der Rechenaufgaben und Ausmalen der Felder mit der richtigen Farbe 	Übungsheft, Arbeitsblatt 2, Zusatz: Arbeitsblatt „Malen und Rechnen“

Arbeitsblatt 1 – Übungsaufgaben zur Addition und Subtraktion

Arbeitsblatt 2 – Übungsaufgaben zur Addition und Subtraktion

Aufgaben zur Täglichen Übung (TÜ)

20.12.2021		21.12.2021	
8 · 7	4 · 9	72:8	81:9
2 · 9	7 · 6	36:6	24:4
6 · 4	5 · 9	27:9	30:5
5 · 5	2 · 3	56:7	49:7
3 · 8	10 · 8	42:6	18:2

Übungsaufgaben zur Addition und Subtraktion

1 **Zahlenfolgen** - Setze die Zahlenfolgen fort. Schreibe drei weitere Zahlen dazu!

1, 4, 7, 10, _____ 21

24, 36, 48, _____ 96

5, 6, 8, 11, _____ 33

11, 22, 33, 44, _____ 88

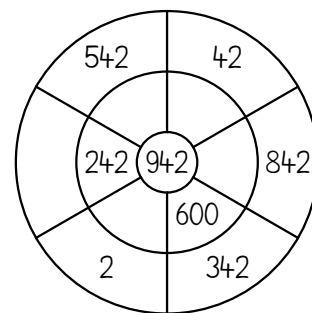
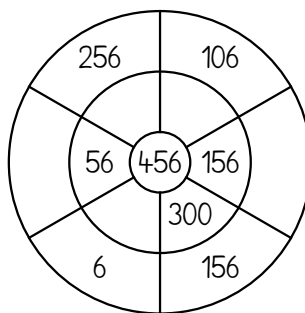
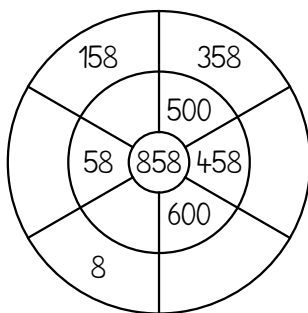
30, 27, 24, 21, _____ 9

★ 120, 125, 145, 150, _____ 200

64, 56, 48, _____ 16

★ 805, 705, 755, 655, _____ 555

2 **Rechenschnecken** - Errechne die Ergebnisse und fülle die Lücken!

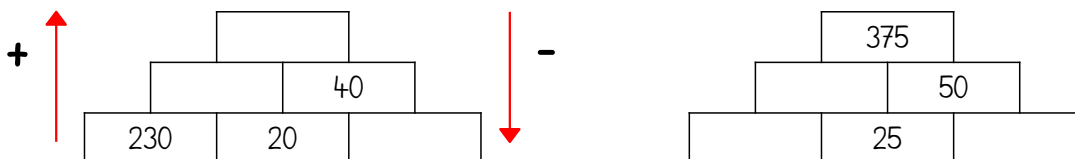


Lösungsfeld

700	800	850	258	400	200	350	300
450	400	400	900	100	940	700	

3 **Rechentreppen** - Errechne die Ergebnisse und fülle die Lücken!

Von unten nach oben rechnet du plus, von oben nach unten rechnet du minus.



Lösungsfeld

25	250	20	300	290	325
----	-----	----	-----	-----	-----

Hinweis: ★ Sternchen-Aufgaben sind etwas schwierigere Aufgaben. Diese kannst du freiwillig lösen.

Übungsaufgaben zur Addition und Subtraktion

1

Rechentürmchen - Löse die Aufgaben und achte auf das Rechenzeichen!

$34 + 28 = \underline{\quad}$

$85 - 13 = \underline{\quad}$

$130 - 20 = \underline{\quad}$

$78 + 22 = \underline{\quad}$

$48 - 36 = \underline{\quad}$

$356 - 30 = \underline{\quad}$

$56 + 28 = \underline{\quad}$

$67 - 25 = \underline{\quad}$

$560 + 70 = \underline{\quad}$

$77 + 15 = \underline{\quad}$

$83 - 57 = \underline{\quad}$

$789 + 5 = \underline{\quad}$

$63 + 37 = \underline{\quad}$

$72 - 34 = \underline{\quad}$

$473 - 9 = \underline{\quad}$

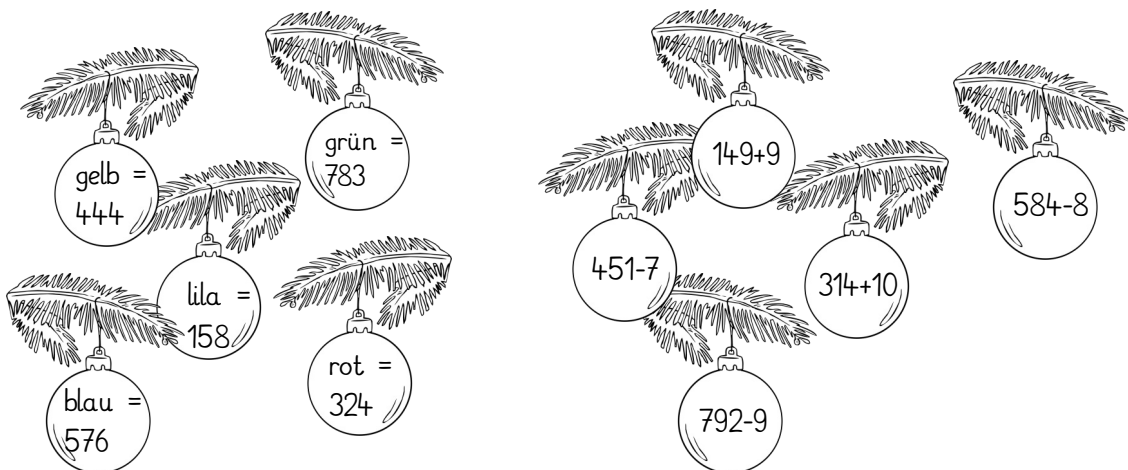
Lösungsfeld

72	92	100	42	84	26	326	38	110	100
630		794		12		464		62	

2

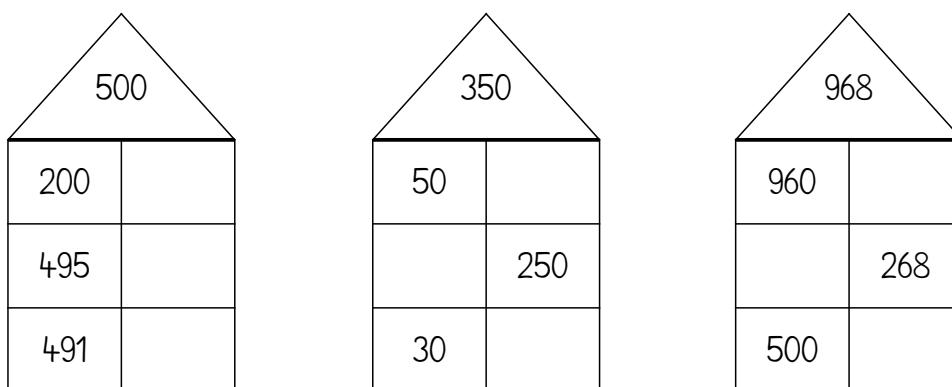
Tannenbaumschmuck - Finde die Kugelpaare!

Rechne die Aufgabe aus und male die Kugel mit der richtigen Ergebnisfarbe an.



3

Zahlenhäuser der Weihnachtswichtel - Ergänze die Zahlen in den Lücken!



Lösungsfeld

8	9	700	300	5	100	320	468	300
---	---	-----	-----	---	-----	-----	-----	-----

Zusatzaufgabe: „Malen und Rechnen“



Rechne aus und male die Felder mit der richtigen Farbe an!
Die Lösung der Aufgabe zeigt dir die richtige Farbe an.

grün	rot	gelb	blau	lila	braun
68	443	87	242	22	97
190	72	50	131	352	
160	750	70	81	90	
562	688	320			
58		875			